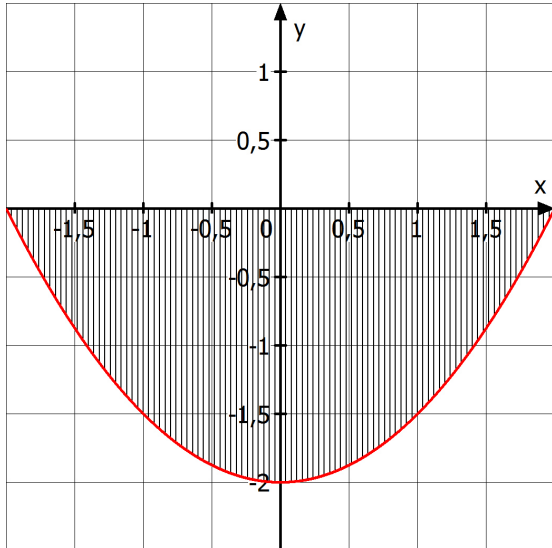


## Flächen: AB 1

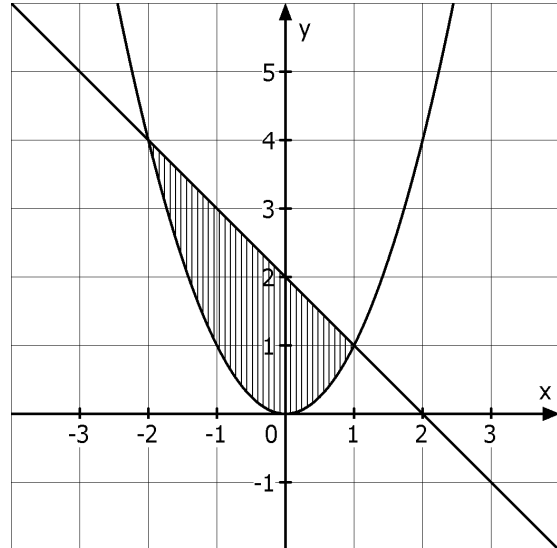
### Auftrag:

- Bestimmen Sie zunächst die verwendeten Funktionsgleichungen.
- Ermitteln Sie den Inhalt zweier Flächen.
- Berechnen Sie den Inhalt zweier Flächen ohne Verwendung von Hilfsmitteln.

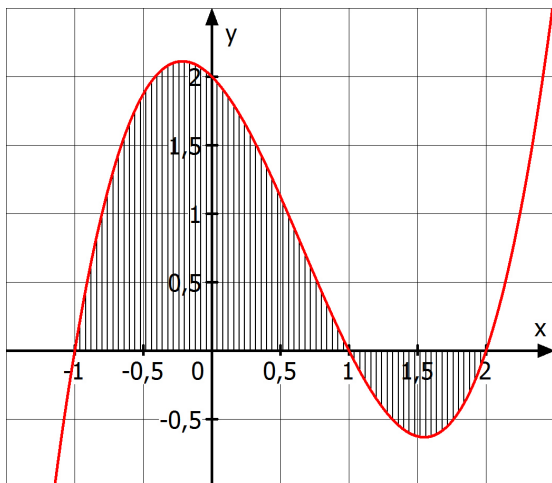
(1) Unter der Oberfläche



(2) Die Wiese zwischen 2 Wegen



(3) Berg und Tal



(4) Handtuch

